

解答

対応コンテンツ

4.1 平行線と角

問1.

(1)  $\angle a = 60^\circ$  ,  $\angle b = 75^\circ$  ,  $\angle c = 60^\circ$  ,  $\angle d = 45^\circ$

(2)  $\angle a = 60^\circ$  ,  $\angle b = 50^\circ$  ,  $\angle c = 70^\circ$

問2.

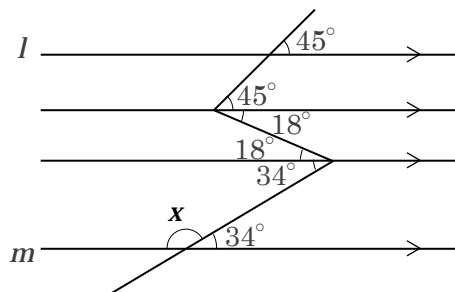
(1)  $150^\circ + 85^\circ + \angle x = 360^\circ$  より、

$$\angle x = 125^\circ \dots \text{答}$$

(2) 下図のように直線  $l$  に平行な2本の直線をひくと、平行線の同位角、錯角が等しいことを利用して

$$63^\circ - 45^\circ = 18^\circ \text{ , } 52^\circ - 18^\circ = 34^\circ \text{ より}$$

$$\angle x = 180^\circ - 34^\circ = 146^\circ \dots \text{答}$$



問3.

(1) 長方形の向かい合う辺は平行であること、折り返してできる角は等しいことを使う。

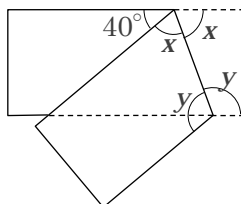
$$\angle x = (180^\circ - 40^\circ) \div 2$$

$$= 70^\circ \dots \text{答}$$

錯角は等しいから、

$$\angle y = 40^\circ + 70^\circ$$

$$= 110^\circ \dots \text{答}$$



(2)  $\angle x = 180^\circ - (71^\circ \times 2) = 38^\circ \dots \text{答}$

$$\angle y = 180^\circ - 71^\circ = 109^\circ \dots \text{答}$$

【2年生】



【平行と合同】



【平行線と角】

解答

対応コンテンツ

4.2 多角形の内角と外角

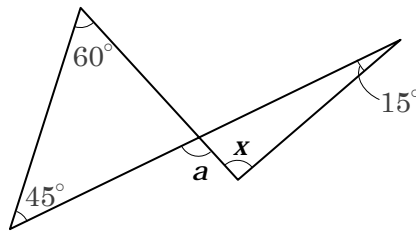
問1.

- (1) ① 下の図の左右のそれぞれの三角形で内角と外角の  
関係を使うと、

$$\angle a = 60^\circ + 45^\circ, \quad \angle a = 15^\circ + \angle x \quad \text{より、}$$

$$60^\circ + 45^\circ = 15^\circ + \angle x$$

$$\angle x = 105^\circ - 15^\circ = 90^\circ \quad \dots \text{答}$$



②  $116^\circ + 98^\circ + (\bullet + \circ) = 360^\circ$

$$\bullet + \circ = (360^\circ - 116^\circ - 98^\circ) \div 2 = 73^\circ$$

$$\angle x = 180^\circ - (\bullet + \circ) = 180^\circ - 73^\circ = 107^\circ \quad \dots \text{答}$$

③ 四角形の内角の和は、 $180^\circ \times (4 - 2) = 360^\circ$

$$180^\circ - 98^\circ = 82^\circ$$

$$\angle x = 360^\circ - (71^\circ + 82^\circ + 118^\circ) = 89^\circ \quad \dots \text{答}$$

④ 多角形の外角の和は、 $360^\circ$

$$180^\circ - 104^\circ = 76^\circ$$

$$\angle x = 360^\circ - (76^\circ + 62^\circ + 88^\circ + 65^\circ)$$

$$= 69^\circ \quad \dots \text{答}$$

⑤ 三角形の内角と外角の関係より

$$\circ - \bullet = 82^\circ, \quad \circ - \bullet = 82^\circ \div 2 = 41^\circ$$

$$\angle x = \circ - \bullet = 41^\circ \quad \dots \text{答}$$

⑥  $29^\circ + \angle x + 39^\circ = 133^\circ$  より

$$\angle x = 133^\circ - (29^\circ + 39^\circ) = 65^\circ \quad \dots \text{答}$$

- (2) 内角の和が $1260^\circ$ となる多角形の頂点の数 $n$ は、

$$180^\circ \times (n - 2) = 1260^\circ$$

$$n = 1260^\circ \div 180^\circ + 2$$

$$= 9(\text{個}) \quad \dots \text{答}$$

【2年生】



【平行と合同】



【多角形の内角と外角】

解答

対応コンテンツ

4.3 合同な図形

問1.

- (1) 12cm
- (2)  $\angle E \cdots 110^\circ$  ,  $\angle H \cdots 105^\circ$
- (3) 四角形 ABCD  $\equiv$  四角形 EFGH

問2.

- (1)  $\triangle ABC \equiv \triangle OMN$   
 1組の辺とその両端の角がそれぞれ等しい。  
 $\triangle DEF \equiv \triangle TUS$   
 3組の辺がそれぞれ等しい。  
 $\triangle JKL \equiv \triangle RPQ$   
 2組の辺とその間の角がそれぞれ等しい。
- (2)  $\angle E \cdots 110^\circ$  ,  $\angle H \cdots 105^\circ$
- (3) 四角形 ABCD  $\equiv$  四角形 EFGH

問3.     ①, ③, ④

- 【2年生】
- ↓
- 【平行と合同】
- ↓
- 【合同な図形】

解答

対応コンテンツ

4.4 証明

問1.

- ㉞ BP          ㉟ BC          ㊱ 辺  
 ㊲ 3組の辺    ㊳  $\angle BPC$

問2.

(1) 仮定 :  $AE = DE, CE = BE$

結論 :  $AC = DB$

(2)  $\triangle ACE \equiv \triangle DBE$

(3) [証明]

$\triangle ACE$  と  $\triangle DBE$  で

仮定より

$$AE = DE \quad \dots\dots ①$$

$$CE = BE \quad \dots\dots ②$$

対頂角 だから

$$\angle AEC = \angle DEB \quad \dots\dots ③$$

①, ②, ③ から 2組の辺とその間の角

が、それぞれ等しいので

$$\triangle ACE \equiv \triangle DBE$$

合同な図形では 対応する辺の長さは等しい から

$$AC = DB$$

【2年生】

↓

【平行と合同】

↓

【証明】